

الگوهای عددی را ادامه دهید

..... و و و و و ۲۹ و ۲۷

..... و و و و و ۳۳۵ و ۳۳۰ و ۳۲۵

..... و و و و و ۵۱۶ و ۵۱۳

۱

با کارت های زیر عددهای سه رقمی بساز و به سوالات پاسخ بده .

۵ ۷ ۱

الف) بزرگترین عدد سه رقمی

ب) کوچکترین عدد سه رقمی

ج) عدد سه رقمی که رقم صدگان آن بیشتر دهگان باشد

۲

جمله های زیر را کامل کن .

الف) اندازه خط بین و سانتی متر است .

ب) اندازه خط سانتی مترو میلی مترو یا میلی متر است .

اندازه خط سانتی مترو قسمت از قسمت مساوی است .

۳

احمد سه سکه صد ریالی و ۵ سکه ده ریالی و دو سکه یک ریالی داشت پدرش ۱۷۲ ریال بود حالا او چند ریال پول دارد ؟

۴

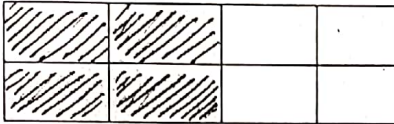
جمع و تفریق های زیر را با رسم شکل انجام دهید

$$\begin{array}{r} ۳۲۵ \\ + ۱۲۸ \\ \hline \end{array}$$

$$\begin{array}{r} ۹۰۰ \\ - ۳۸۹ \\ \hline \end{array}$$

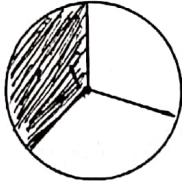
۵

جاهای خالی را کامل کنید .




..... قسمت از قسمت مساوی تقسیم شده است.

۶



..... قسمت از قسمت مساوی درست شده است .

با توجه به شکل کامل کنید.



..... تا تایی می شود

00000
00000
00000
00000

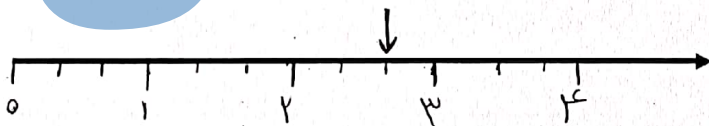
۷

جبر و استی

..... تا تایی می شود

..... تا تایی می شود

جمله را کامل کنید



۸

نقطه مشخص شده واحد و قسمت از قسمت مساوی را نشان میدهد .

با توجه به صفحه چرخنده روبرو به سوالات پاسخ دهید.



۹

الف) احتمال اینکه عقربه روی کدام یک از رنگ ها بعد از چرخیدن بایستد بیش تر است؟ چرا؟

.....

ب) عبارت کسری مربوط به رنگ آبی را بنویس .

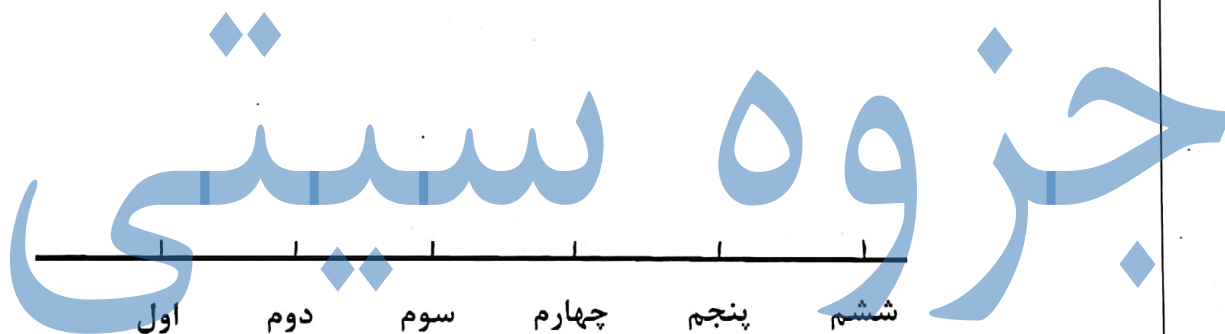
ج) عبارت ۱ قسمت از ۸ قسمت مربوط به کدام رنگ است؟

در یک دبستان تعداد دانش آموزان کلاس های اول تا ششم به صورت زیر است :

کلاس	اول	دوم	سوم	چهارم	پنجم	ششم
تعداد دانش آموزان	۵۳	۳۶	۲۷	۵۱	۴۲	۴۸
تعداد تقریبی						

ابتدا تعداد تقریبی دانش آموزان را بنویسید و جدول را کامل کنید.
اگر هردانش آموز را با نشان دهیم نمودار را کامل کنید .

۱۰



« از یکدیگر عیب جویی نکنید » « قران کریم » موفق باشید